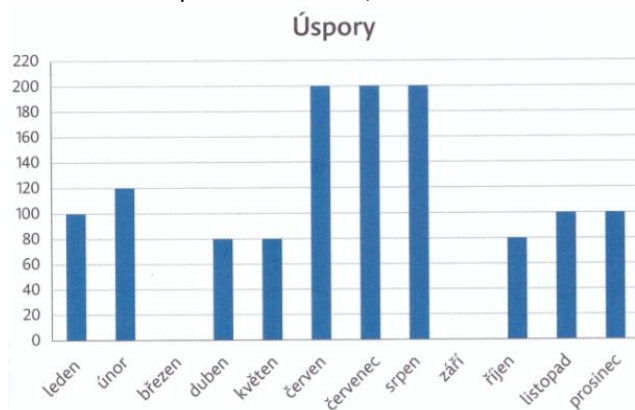
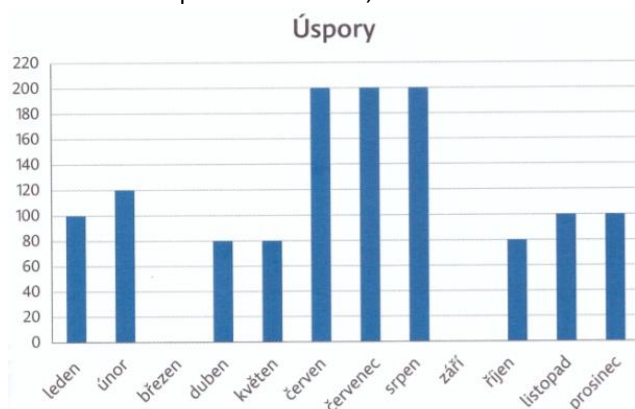


Karel si po celý rok spořil a vše si zaznamenával do grafu. Zapomněl si zapsat údaje za březen a září. Věděl ale, že v 1. čtvrtletí si našetřil stejnou částku jako ve 3. čtvrtletí, a že si v září naspořil třetinu toho, co v březnu.



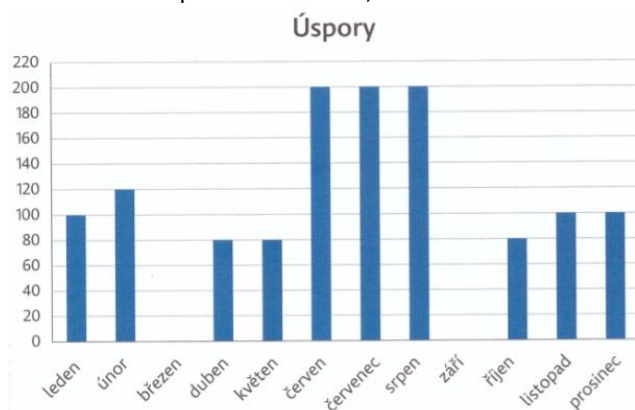
Kolik korun si naspořil Karel v březnu a kolik v září?
Kolik korun naspořil průměrně za jeden měsíc?

Karel si po celý rok spořil a vše si zaznamenával do grafu. Zapomněl si zapsat údaje za březen a září. Věděl ale, že v 1. čtvrtletí si našetřil stejnou částku jako ve 3. čtvrtletí, a že si v září naspořil třetinu toho, co v březnu.



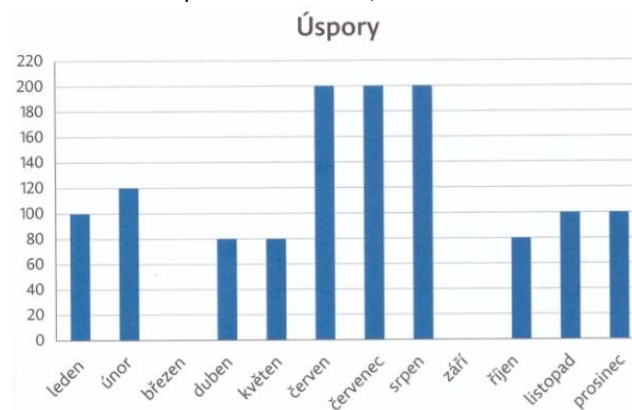
Kolik korun si naspořil Karel v březnu a kolik v září?
Kolik korun naspořil průměrně za jeden měsíc?

Karel si po celý rok spořil a vše si zaznamenával do grafu. Zapomněl si zapsat údaje za březen a září. Věděl ale, že v 1. čtvrtletí si našetřil stejnou částku jako ve 3. čtvrtletí, a že si v září naspořil třetinu toho, co v březnu.



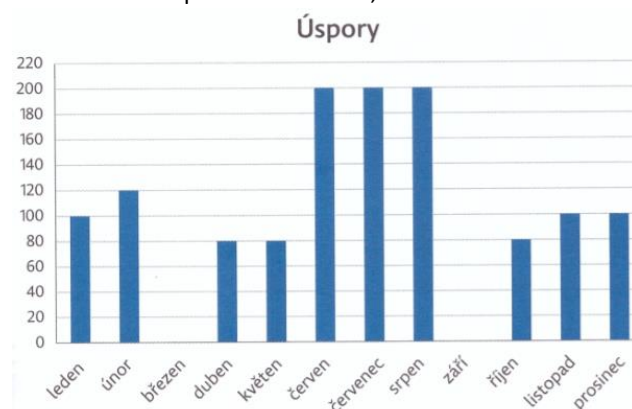
Kolik korun si naspořil Karel v březnu a kolik v září?
Kolik korun naspořil průměrně za jeden měsíc?

Karel si po celý rok spořil a vše si zaznamenával do grafu. Zapomněl si zapsat údaje za březen a září. Věděl ale, že v 1. čtvrtletí si našetřil stejnou částku jako ve 3. čtvrtletí, a že si v září naspořil třetinu toho, co v březnu.



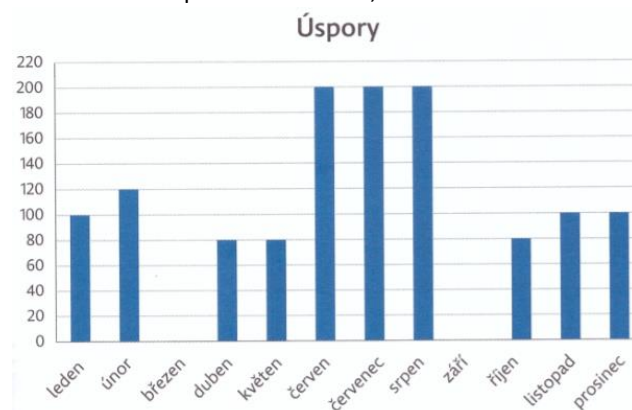
Kolik korun si naspořil Karel v březnu a kolik v září?
Kolik korun naspořil průměrně za jeden měsíc?

Karel si po celý rok spořil a vše si zaznamenával do grafu. Zapomněl si zapsat údaje za březen a září. Věděl ale, že v 1. čtvrtletí si našetřil stejnou částku jako ve 3. čtvrtletí, a že si v září naspořil třetinu toho, co v březnu.



Kolik korun si naspořil Karel v březnu a kolik v září?
Kolik korun naspořil průměrně za jeden měsíc?

Karel si po celý rok spořil a vše si zaznamenával do grafu. Zapomněl si zapsat údaje za březen a září. Věděl ale, že v 1. čtvrtletí si našetřil stejnou částku jako ve 3. čtvrtletí, a že si v září naspořil třetinu toho, co v březnu.



Kolik korun si naspořil Karel v březnu a kolik v září?
Kolik korun naspořil průměrně za jeden měsíc?