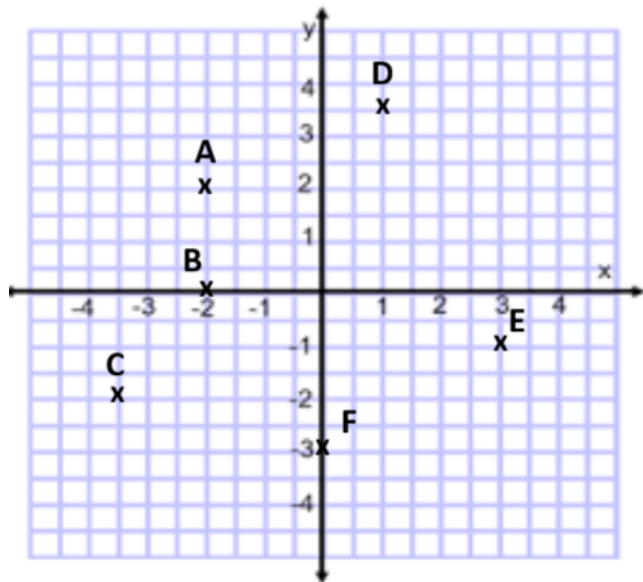


Oddělení A:

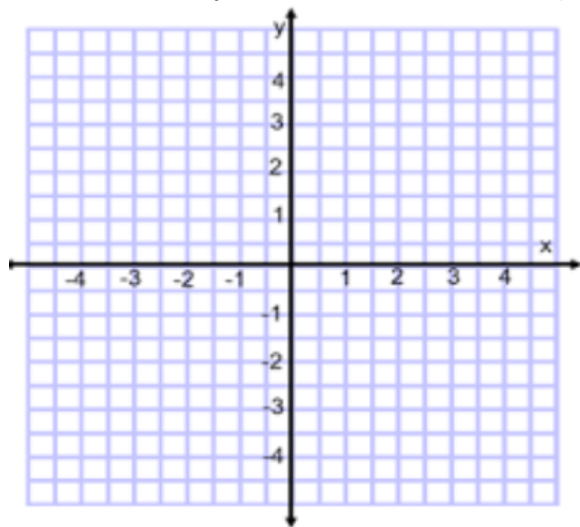
Př. 1: Zapiš souřadnice bodů:



Př. 2: Zapiš body

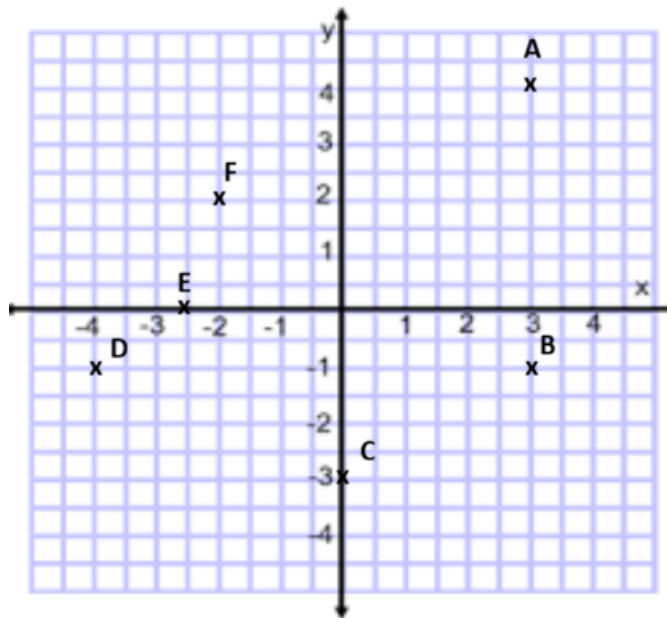
$K[3; 4], L[-3; -1], M[-4; -4], N[2; -3];$

$O[3; 0]; P[1; 1]; Q[0; 4]$  do souřadnicového systému:



Oddělení B:

Př. 1: Zapiš souřadnice bodů:



Př. 2: Zapiš body

$K[3; 4], L[3; -1], M[4; -4], N[-2; -3];$

$O[-3; 0]; P[1; -1]; Q[0; 4]$  do souřadnicového systému:

