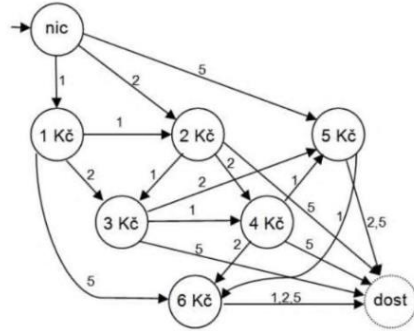
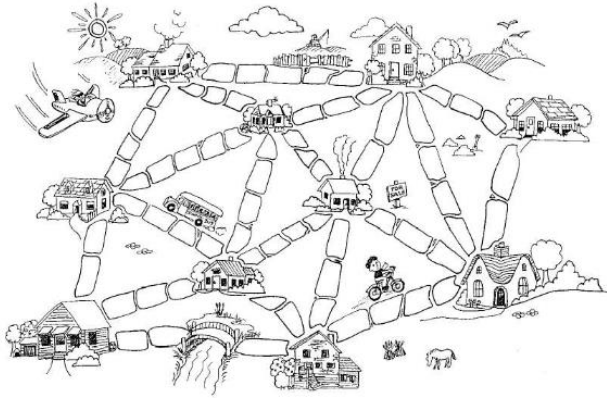


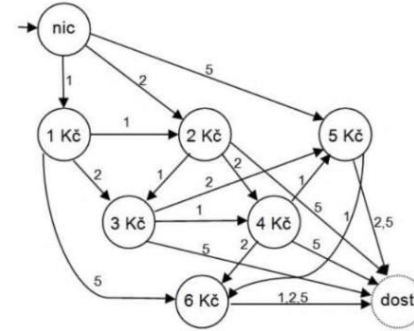
Limonádu, kterou si chcete z automatu koupit, stojí 7 Kč. Zkuste pomocí grafu znázornit, co se stane, když vhodím minci 1, 2 nebo 5 Kč.



Ve městě Blátov se rozhodli vydláždít cesty. V plánu je vidět, kolik dlaždic by bylo třeba položit po jednotlivých cestách (mosty se nepočítají). Rada starších se rozhodla, že v rámci šetření se nebudou dláždít cesty všechny. Vydláždí se tak, aby se dalo z každého domku dojít do jakéhokoli jiného domku suchou nohou, i když to nebude nejkratší cestou, a zároveň se nevytvořila okružní cesta. Navrhněte řešení. Můžete najít všechna řešení.



Limonádu, kterou si chcete z automatu koupit, stojí 7 Kč. Zkuste pomocí grafu znázornit, co se stane, když vhodím minci 1, 2 nebo 5 Kč.



Ve městě Blátov se rozhodli vydláždít cesty. V plánu je vidět, kolik dlaždic by bylo třeba položit po jednotlivých cestách (mosty se nepočítají). Rada starších se rozhodla, že v rámci šetření se nebudou dláždít cesty všechny. Vydláždí se tak, aby se dalo z každého domku dojít do jakéhokoli jiného domku suchou nohou, i když to nebude nejkratší cestou, a zároveň se nevytvořila okružní cesta. Navrhněte řešení. Můžete najít všechna řešení.

