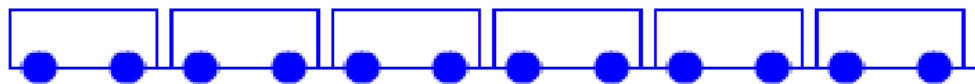


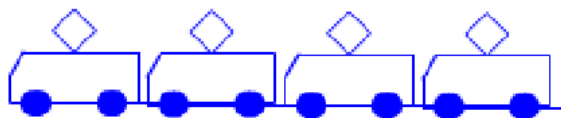
Vytvoř scénář pro vlak ze šesti stejných vagónů,  
čekajících na lokomotivu.



Vyzkoušej scénář:



Pomocí bloku **opakuji** vytvoř řadu 4 lokomotiv jedoucích za sebou.



Sestav scénář pro vlak s lokomotivou a 4 vagóny.



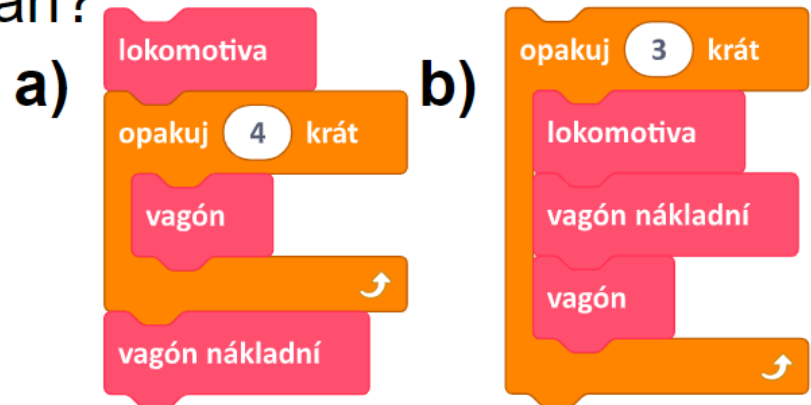
Sestav scénář pro přesně takovéto vlaky.

Využivej blok **opakuj** tam, kde je to vhodné.



d) mnoho lokomotiv táhne vagón plný zlata

Kolik lokomotiv a kolik všech vagónů budou mít vlaky s těmito scénáři?



Kolik lokomotiv a kolik všech vagónů budou mít tyto vlaky, když změníme počet opakování ve scénářích na číslo 6?

Jaké musí být číslo v bloku opakování, aby počet vagónů ve vlaku byl celkem 4?

Vytvoř scénáře pro tyto vlaky.

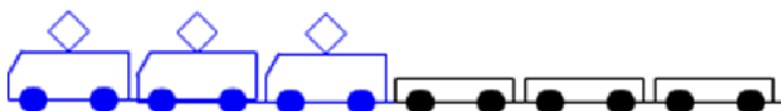
a



b



c



d



e

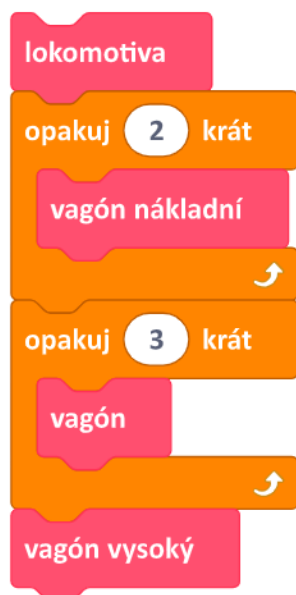


Jaký vlak vznikne podle těchto scénářů? Nakresli na papír, jak bude vlak vypadat. Teprve pak ověř.

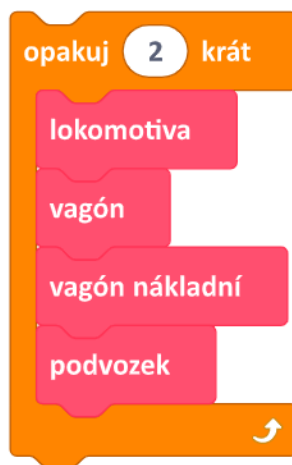
1.



2.



3.



4.

